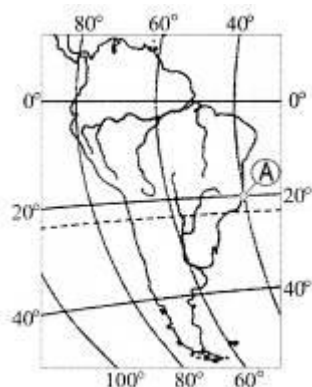


Материалы для подготовке к промежуточной аттестации по географии (7, 8 класс).

Задание А 1. Какие географические координаты имеет пункт, обозначенный на карте Южной Америки буквой А?



- 1) 40° ю.ш. 20° з.д.
- 2) 40° ю.ш. 20° в.д.
- 3) 20° ю.ш. 40° з.д.
- 4) 20° ю.ш. 40° в.д.

Задание А 2. Какое соответствие «горная порода – ее тип» является верным?

- 1) мрамор – осадочная
- 2) гранит – осадочная
- 3) базальт – магматическая
- 4) известняк – метаморфическая

Задание А 3. На каком материке обитает медведь коала?

- 1) Южная Америка
- 2) Евразия
- 3) Северная Америка
- 4) Австралия

Задание А.4. Какой из перечисленных элементов погоды назван неверно?

- 1). Температура 3) Направление ветра
- 2).Осадки 4) Внутренние воды

Задание А5. Коренными жителями США являются

- 1).эскимосы 3).афроамериканцы
- 2).алеуты 4) индейцы

Задание А6 Самая длинная река мира - это

- 1)Обь 3) Нил
- 2) Амазонка 4) Миссисипи

Задание А7. Какими морями омывается Россия на севере?

- 1). Балтийское, Черное, Белое 3).Красное, Средиземное

Холодные течения	
------------------	--

Задание В3. Распределите животных Северной Америки по природным зонам:

- | | |
|-----------------|----------------|
| 1) бизон | а) тундра |
| 2) овцебык | б) лесная зона |
| 3) россомаха | в) прерия |
| 4) снежная коза | г) Кордильеры |

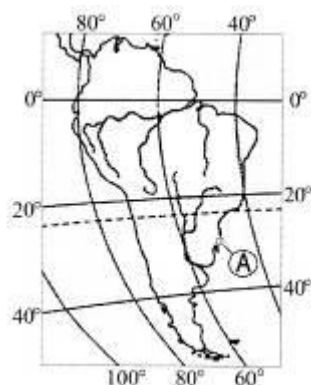
Ответ запишите в таблицу

тундра	Лесная зона	прерия	Кордильеры

Задание С

Как влияют на климат Северной Америки горы Кордильеры?

Задание А 1. Какие географические координаты имеет пункт, обозначенный на карте Южной Америки буквой А?



- 1) 30° ю.ш. 50° в.д.
- 2) 30° ю.ш. 50° з.д.
- 3) 50° ю.ш. 30° з.д.
- 4) 50° ю.ш. 30° в.д.

Задание А 2. В результате деятельности ветра образуются

- 1) оползни
- 2) балки
- 3) барханы
- 4) овраги

Задание А 3. Ехидны и утконосы обитают на материке

- 1) Южная Америка
- 2) Африка
- 3) Северная Америка
- 4) Австралия

4. полуостров Малая Азия

г) Субэкваториальный

Ответ запишите в таблицу

субтропический	субарктический	Континентально-умеренный	субэкваториальный

Задание В2 Определите, к бассейну какого океана относятся моря, омывающие Евразию

- | | | |
|---------------|-------------|-----------------------------|
| 1. Аравийское | 6. Красное | |
| 2. Балтийское | 7. Лаптевых | а) Атлантический океан |
| 3. Баренцево | 8. Охотское | б) Северный Ледовитый океан |
| 4. Желтое | 9. Северное | в) Тихий океан |
| 5. Карское | 10. Черное | г) Индийский океан |

Ответ запишите в таблицу

Атлантический океан	Северный Ледовитый	Тихий океан	Индийский океан

Задание В3. Распределите культурные растения по зонам выращивания:

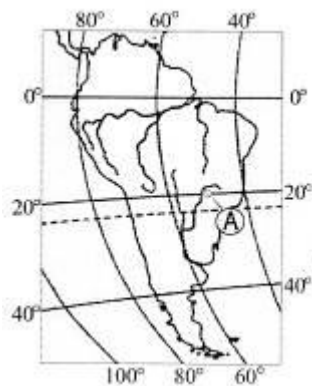
- | | | |
|---------------------|-----------------------|----------------------------|
| 1. ананас | 8. пряности | |
| 2. банан | 9. пшеница | а) степь |
| 3. виноград | 10. сахарная свекла | б) переменнно-влажные леса |
| 4. кокосовая пальма | 11. рис | в) субтропические леса |
| 5. кукуруза | 12. сахарный тростник | г) экваториальные леса |
| 6. маслина | 13. хлопок | |
| 7. подсолнечник | 14. цитрусовые | |

Ответ запишите в таблицу

степь	Переменно-влажные леса	Субтропические леса	Экваториальные леса

Задание С. От чего зависит количество высотных поясов в горах?

Задание А 1. Какие географические координаты имеет пункт, обозначенный на карте Южной Америки буквой А?



- 1) 50° ю.ш. 20° в.д.
- 2) 50° ю.ш. 20° з.д.
- 3) 20° ю.ш. 50° в.д.
- 4) 20° ю.ш. 50° з.д.

Задание А 2. Какой стороне горизонта соответствует азимут 225 градусов?

- 1).юго-западу 3). юго-востоку
- 2). северо-востоку 4). северо-западу

Задание А 3. Какое соответствие «растение – материк, на котором оно произрастает» является верным?

- 1) эвкалипт – Африка
- 2) бутылочное дерево- Евразия
- 3) баобаб – Австралия
- 4) секвойя – Северная Америка

Задание А4. Угол между направлением на север и на объект называется

- 1) прямой 3) компас
- 2) азимут 4) стрелочный

Задание А5 Название какой страны и ее столицы указано неверно?

- | | |
|--------------------|--------------------|
| 1.Испания - Мадрид | 3.Бангладеш - Дели |
| 2. Россия - Москва | 4.Китай - Пекин |

Задание А6 Гора Аконкагуа – это высочайшая вершина

- 1) Анд 3) Гималаев 2) Драконовых гор 4) Кавказ

Задание А7. К осадочным горным породам относятся:

- 1) мел, бокситы 3) известняк, мел
2) известняк, ртуть 4) мрамор, уголь

Задание А8. Самая глубокая впадина Мирового океана – Марианский желоб- находится в

- 1) Атлантическом океане 3) Северном ледовитом океане
2) Индийском океане 4) Тихом океане

Задание А 9. Пассаты это –

- 1) постоянные ветры, дующие от тропических широт к экватору
2) постоянные ветры, дующие от тропических широт к умеренным
3) ветры между океаном и материком, меняющие свое направление два раза в год
4) ветры, постоянно дующие в умеренных широтах

Задание А 10. Автором книги «Хождение за три моря» является

- 1) М.В. Ломоносов 3) Ермак
2) А. Никитин 4) Е.Хабаров

Задание В1. Определите с помощью климатической карты районы, в которых выпадает много или мало осадков:

1. Амазонская низменность 6. Северная Африка
2. Антарктида 7. Северо-Восток Азии
3. Аравийский полуостров 8. Центральная Австралия
4. Малайский архипелаг 9. Юго-Запад Южной Америки
5. Побережье гвинейского залива 10. Японские острова

Ответ запишите в таблицу:

Районы с большим выпадением осадков	
Районы с малым выпадением осадков	

Задание В2. Определите, каким океанам соответствуют данные утверждения:

1. Самый вытянутый с севера на юг а) Тихий океан
2. Почти треть океана занимает шельф б) Атлантический океан
3. Своё имя получил от Ф.Магеллана в) Индийский океан

4. Был освоен в древности арабскими мореплавателями г) Северный Ледовитый океан

Ответ запишите в таблицу:

Тихий океан	Атлантический океан	Индийский океан	Северный Ледовитый

Задание В3. Распределите животных Южной Америки по природным зонам:

- | | | |
|-----------------------|---------------------|--------------------------------|
| 1. анаконда | 7. ленивец | |
| 2. броненосец | 8. муравьед | а) влажные экваториальные леса |
| 3. вискача | 9. нанду | б) саванны |
| 4. капибара | 10. нутрия | г) пампа |
| 5. карликовая игрунка | 11. пекари | |
| | 12. пиранья | |
| 6. колибри | 13. пампасная кошка | |

Ответ запишите в таблицу:

Влажные экваториальные леса	саванны	пампа

Задание С. Чем объясняются низкие температуры Антарктиды?

Какими цифрами показаны на рисунке 77:

Моря: Японское _____, Восточно-Китайское _____,
Южно-Китайское _____, Аравийское _____,
Красное _____, Балтийское _____, Северное _____,
Баренцево _____, Средиземное _____, Черное _____,
Норвежское _____

Заливы: Персидский _____, Бискайский _____,
Бенгальский _____

Острова: Японские _____, Филиппинские _____,
Шри-Ланка _____, Ява _____, Суматра _____,
Калимантан _____, Великобритания _____, Ир-
ландия _____, Исландия _____, Сицилия _____

Полуострова: Корея _____, Индокитай _____, Индо-
стан _____, Аравийский _____, Малая Азия _____,
Скандинавский _____, Пиренейский _____,
Апеннинский _____, Балканский _____

Проливы: Малаккский _____, Ла-Манш _____,
Босфор _____

Низменности: Великая Китайская _____, Индо-
Гангская _____, Месопотамская _____

Горы: Памир _____, Тянь-Шань _____, Тибет
_____, Скандинавские _____, Пиренеи _____,
Апеннины _____, Балканы _____, Альпы _____,
Карпаты _____, Судеты _____

Плоскогорья и нагорья: Гоби _____, Аравий-
ское _____, Иранское _____, Декан _____

Реки: Хуанхэ _____, Янцзы _____, Инд _____,
Ганг _____, Тигр _____, Евфрат _____, Висла
_____, Одра _____, Эльба _____, Дунай _____,
Рейн _____, Сена _____

Города: Токио _____, Бомбей _____, Калькутта
_____, Хельсинки _____, Осло _____, Рейкьявик
_____, Копенгаген _____, Париж _____, Амстердам
_____, Брюссель _____, Берн _____, Берлин _____,
Рим _____, Неаполь _____, Генуя _____, Вар-
шава _____, Афины _____, Лондон _____?

1. Какой из перечисленных народов мира, проживающих на территории Евразии, является наиболее малочисленным?

- | | |
|------------|-------------|
| 1) поляки | 3) китайцы |
| 2) монголы | 4) французы |

2. Крайняя южная точка Южной Америки расположена на территории государства

- | | |
|--------------|--------------|
| 1) Венесуэла | 3) Аргентины |
| 2) Чили | 4) Бразилии |

3. Для какой из перечисленных территорий Евразии, расположенных в умеренном климатическом поясе, характерен резко континентальный климат?

- | | |
|---------------------------------|--------------------------|
| 1) Восточно-Европейская равнина | 3) Камчатский полуостров |
| 2) Западносибирская низменность | 4) Забайкалье |

4. Снежные лавины – одно из наиболее грозных и опасных природных явлений. В каком из перечисленных районов снежные лавины представляют наибольшую опасность?

- 1) Уральские горы
- 2) Амазонская низменность
- 3) Кавказ
- 4) Русская равнина

5. Учёные-биологи должны исследовать места обитания популяций овцебыков, белых медведей, некоторых видов птиц. Какую из перечисленных природных зон им следует посетить для проведения исследовательской работы?

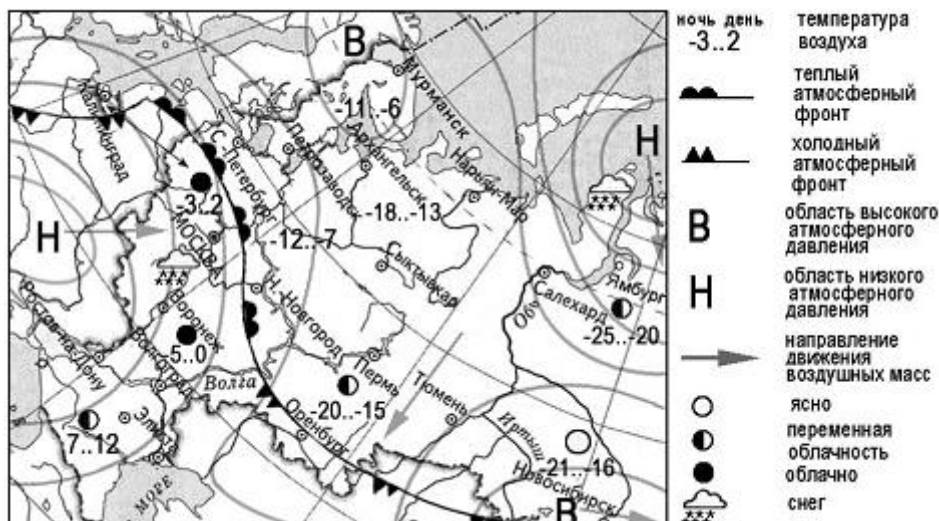
- 1) Тундра
- 2) Тайга
- 3) Арктическая пустыня
- 4) Степь

6. Какой из перечисленных городов находится на материке Северная Америка?

- 1) Женева
- 2) Каир
- 3) Чикаго
- 4) Перу

7. Какой из перечисленных городов, показанных на карте, находится в зоне действия циклона?

- 1) Мурманск
- 2) Новосибирск
- 3) Тюмень
- 4) Воронеж



8. Карта погоды составлена на 25 декабря. В каком из перечисленных городов, показанных на карте, на следующий день наиболее вероятно существенное потепление?

- 1) Москва
- 2) Санкт-Петербург
- 3) Оренбург
- 4) Новосибирск

9. Что является примером нерационального природопользования?

- 1) заготовка древесины с последующими посадками
- 2) производство бумаги из макулатуры
- 3) комплексное использование добываемого сырья
- 4) распашка земель вдоль склонов

10. В каком из высказываний содержится информация о режиме реки Амур?

- 1) Берега реки Амур в верхнем течении скалисты и покрыты хвойными лесами.
- 2) Амур – пограничная река России, часть её водосборной площади находится на территории Китая.
- 3) Замерзает Амур в течение ноября, вскрывается в период с третьей декады апреля по первую декаду мая.
- 4) По водности Амур относится к числу наиболее крупных рек России: средний годовой расход воды в устье составляет 12 800 м³/с.

11. Расположите перечисленные ниже города в порядке увеличения их высот над уровнем моря. Запишите в таблицу получившуюся последовательность букв.

- А) Лондон
- Б) Астрахань
- В) Лима

Ответ:

--	--	--

12. Определите, какая горная вершина имеет географические координаты 42° с.ш. и 42° в.д. Ответ: _____

13. Карты какого географического района Евразии необходимо выбрать, чтобы более детально изучить страну Польшу?

- 1) Юго-Западная Азия
- 2) Восточная Европа
- 3) Центральная Азия
- 4) Северная Европа

Ответ: _____

14. Туристические фирмы различных стран мира разработали слоганы (рекламные лозунги) для привлечения туристов в свои страны. Установите соответствие между слоганом и страной. Запишите в таблицу цифры, соответствующие выбранным ответам.

СЛОГАН

СТРАНА

- А) Добро пожаловать на побережье озера Титикака – горной жемчужины с неповторимой красотой!
- Б) Насладитесь возможностью порыбачить в дельте крупнейшей реки мира!

- 1) Перу
- 2) США
- 3) Бразилия
- 4) Аргентина

Ответ:

А	Б

15. Расположите страны мира в той последовательности, в которой их жители встречают Новый год. Запишите в таблицу получившуюся последовательность букв.

А) Япония Б) Германия В) Болгария

Ответ:

--	--	--

16. В конце февраля 2010 г. в Тихом океане на глубине 55 километров у побережья Чили, в 115 километрах к северу от города Консепсьон, произошло сильное землетрясение магнитудой 8,8. В результате землетрясения и последовавшего за ним цунами погибли более 500 человек. Сведений о жертвах и разрушениях не поступало.

На какой территории наиболее вероятны землетрясения?

- 1) Японские острова
- 2) Таймырский полуостров
- 3) Русская (Восточно-Европейская) равнина
- 4) Урал

17. Определите страну по её краткому описанию. Территория этой страны имеет выход к одному из морей Атлантического океана. На её территории расположена крайняя северная точка материка. Природа страны разнообразна: здесь можно увидеть средиземноморские субтропические жестколистные леса и пустынные пейзажи. Страна имеет сухопутную границу лишь с двумя государствами. Название страны и её столицы совпадают. Ответ: _____

18. Установите соответствие: территория – тип климата

Территория	Тип климата
1. Скандинавский полуостров	А. Тропический
2. Пиренейский полуостров	Б. Субтропический средиземноморский
3. Аравийский полуостров	В. Субарктический

19. Выберите все признаки платформ

- А. Состоит из осадочных пород, смятых в складки
- Б. В рельефе выражены равнины
- В. Характерны частые землетрясения

20. Установите соответствие: река – материк

1. Дунай	А. Африка
1. Конго	Б. Северная Америка
2. Парана	В. Евразия
3. Миссисипи	Г. Южная Америка

21. Какая природная зона формируется в субарктическом климатическом поясе

- А. Тайга
- Б. Тундра
- В. Смешанные леса.

22. Общей чертой степей и тундр является то, что в обеих зонах:

- А. Почвы малоплодородные
- Б. Выпадает большое количество осадков
- В. Не растут деревья
- Г. Много болот

23. Установите соответствие: природная зона – животные

1. Лось	А. Арктическая пустыня
2. Белый медведь	Б. Степь
3. Суслик	В. Тайга
4. Волк	Г. Смешанные леса

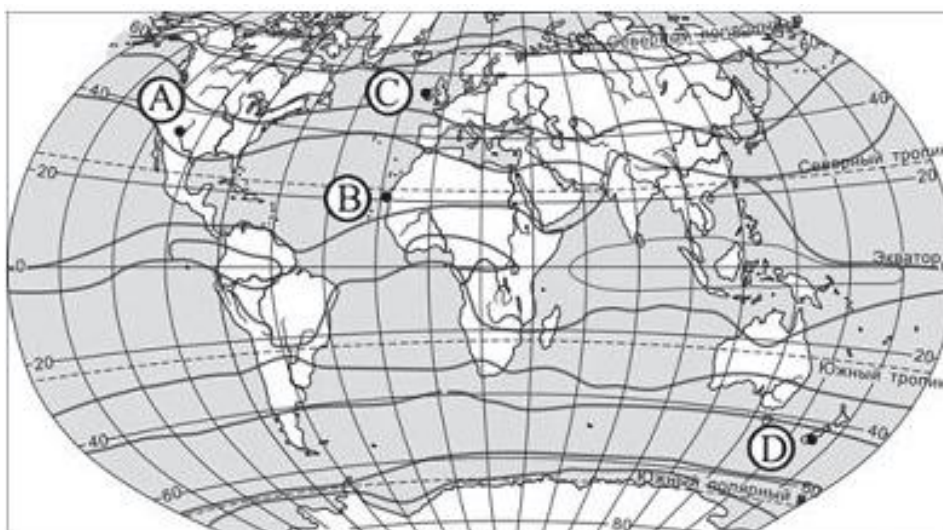
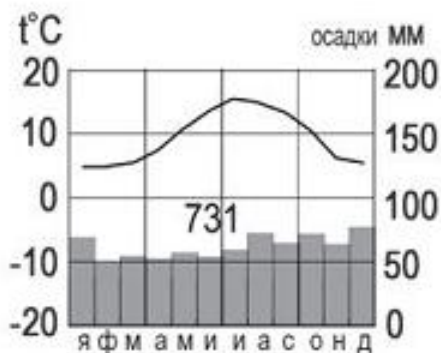
24. Самые крупные месторождения нефти находятся:

- А. В Черном море
 Б. В Персидском заливе
 В. На Кавказе
 Г. На Амазонской низменности

25. Установите соответствие: горы – материк

1. Тибет	А. Южная Америка
2. Анды	Б. Африка
3. Атлас	В. Северная Америка
4. Аппалачи	Г. Евразия

26. Определите, какой буквой на карте обозначен пункт, климатограмма которого показана на рисунке?



— границы климатических поясов

